


IMIĘ I NAZWISKO UCZNIĄ

Przy wybranej odpowiedzi wstaw x w kratce.

1. O ile jest mniej pszczołek od kwiatków?



o 8

o 6


o 3

o 4

2. Wskaż parę kwiatków, która ma **najwięcej** płatków.



3. Ile **trójkątów** widzisz na rysunku?



20

21

19

26

4. Natasza zobaczyła kilka koni w stadninie. Policzyła ich nogi, było ich 16. Ile **koni** zobaczyła Nataszka?

2

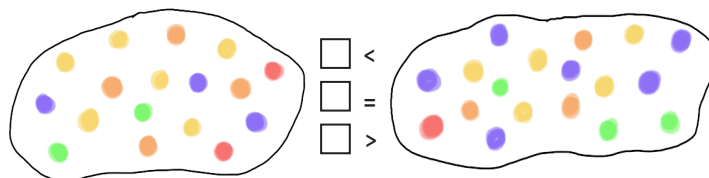
3

1

4

5. Zaznacz kredki, w których **wynik** wynosi 19.

6. Gdzie jest **więcej** kulek? Zaznacz odpowiedni znak „<”, „>”, „=”.



<

=

>

7. Jakie **liczby** ukryły się pod rysunkami? Zaznacz.

8 + = 15

14 + = 23

24 - = 11



7

8

9

6



5

3

2

9



11

13

3

9

8. Jakie liczby zostały **zakryte** biedronkami?

17 19 21 23


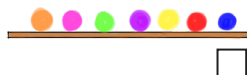
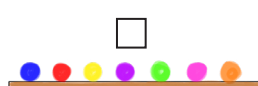
16, 18, 20

18, 20, 21

18, 20, 22

15, 17, 19

12. Filip poukładał kulki na półce według wzoru: niebieska kulka leży po lewej stronie, kulka zielona i różowa leżą po przeciwnej stronie, ale różowa kulka nie leży obok fioletowej. **Który rysunek** przedstawia półkę z kulkami Filipa?



9. Lukrecja kupiła 12 babeczek. 4 babeczki były waniliowe, a pozostałe o smaku karmelu. Ile było babeczek **karmelowych**?

12 - 5 = 7

12 + 4 = 17

12 - 4 = 8

12 - 7 = 5

10. Połącz liczby z ich **zapisem słownym**.

dwadzieścia siedem

20

22

72

27

szesnaście

16

60

16

26

czterdzieści trzy

34

43

14

44

sześćdziesiąt siedem

70

76

4

67

11. Wskaż działanie, w którym **wynik jest równy 11**.


13 - 3

13 - 2

17 - 5

11 - 7

13. Przyjrzyj się obrazkowi i uzupełnij zdania.



W prawym dolnym rogu jest:

-

W lewym górnym rogu jest:

-

Na dole znajduje się:

-

Pomiędzy buźką, a pajakiem jest:

-

14. Alicja poszła na zakupy i włożyła do koszyka: 3 gruszki, 7 pomidorów, 5 jabłek, 3 ogórki, dwa mleka, 4 marchewki i 4 pomarańcze. **Ile warzyw** miała Alicja w koszyku?

- 14 15
 22 25

15. Rozszyfruj zadania i zaznacz wyniki.

3	6	7	13	16	10	5

$\triangle + \text{flower} + \text{spider} =$
 10 20 14 23

$\square - \text{boot} + \text{flower} =$
 12 13 4 10

$\text{bow tie} + \square - \text{boot} =$
 9 13 23 15

16. Hania dostała od babci 14 czekoladek. Mama ją poprosiła, aby nie zjadła wszystkich od razu. W poniedziałek zjadła 2 czekoladki, we wtorek 4, a w środę 3. Ile czekoladek miała Hania **w czwartek**?

- 12 8 5 7

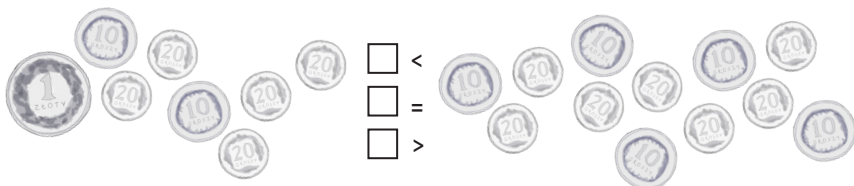

17. Czarek wybrał się na rolki. Zabrał ze sobą 20 zł, po drodze kupił sok za 6 zł i gumę za 1 zł. Ile pieniędzy mu **zostało**?

- 15 zł 14 zł 13 zł 6 zł

Z jakich monet mogła składać się **reszta** Czarka?

- 2 zł, 2 zł, 2 zł, 2 zł, 5 zł
 2 zł, 1 zł, 5 zł
 5 zł, 1 zł, 2 zł
 5 zł, 5 zł, 2 zł, 1 zł

18. Gdzie jest **więcej** pieniędzy? Wybierz znak „<”, „>”, „=”.



21. Zaznacz brakujący znak „+” lub „-” tak, aby działanie było poprawne.

13 ... 5 = 18 + - 22 ... 4 = 18 + -
 8 ... 1 = 7 + - 12 ... 4 = 16 + -

22. Zsumuj ze sobą wszystkie liczby i zaznacz wynik.

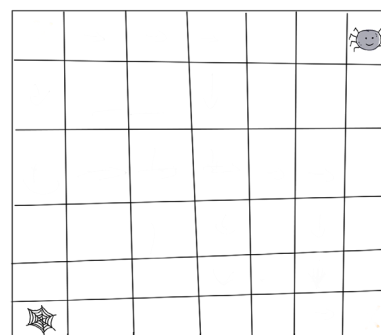


- 37 39
 29 27

19. Zaznacz prawidłowo wykonane działania.

- $6 + 9 = 15$ $19 - 7 + 1 = 14$
 $19 + 4 - 5 = 18$ $7 + 7 = 12$

20. Wskaż drogę, która poprowadzi pajęczka do pajęczyny.



- ← ← ↓ ↓ ← ← ↓ ↓ ↓
 ← ↓ ↓ ← ← ↓ ↓ ↓ ← ←
 ↓ ↓ ↓ ← ← ← ↓ ↓ ↓ ↓ ↓
 ↓ ↓ ← ← ← ↓ ↓ ↓ ← ←

