


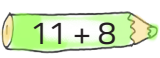
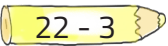

IMIĘ I NAZWISKO UCZNIĄ .....

Przy wybranej odpowiedzi wstaw x w kratce.


**1.** Pies Nataszy waży 8 kg, a kot Konstancji 5 kg. Ile ważą oba zwierzęta razem?

- 10 kg                       12 kg  
 8 kg                          13 kg

**3.** Zaznacz kredki, na których wynik wynosi 19.

-                          
                        

**2.** O ile jest mniej słończek od chmurek?



- o 1                                       o 2  
 o 3                                       o 4

**4.** Filip zobaczył w parku bawiące się pieski. Policzył ich nogi, było ich 16. Ile piesków zobaczył Filip?

- 3                                       4                                       5                                       6

**5.** Jakie liczby ukryły się pod kwiatkami?

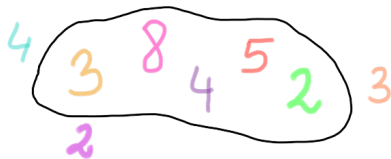


- 18 16 12                       20 21 22  
 18 16 13                       18 16 12

**6.** Karolina poukładała kulki na półce według wzoru: żółta kulka leży na środku, niebieska i zielona po lewej stronie, po prawej stronie różowa leży obok pomarańczowej.





















**7.** Zsumuj ze sobą wszystkie liczby w zbiorze i zaznacz wynik.



- 21                                       23  
 18                                       22

**8.** Rozszyfruj zadania i zaznacz wynik.

					
8	9	12	7	10	4

-  +  +  =  20     24     22     19  
 -  +  =  4     1     7     8  
 +  -  =  16     8     18     26  
 +  -  =  17     9     8     18

**9.** Zuzia poszła do kina z koleżankami. Zabrała ze sobą 30 zł. W kinie kupiła sobie wodę za 5 zł, batonika za 3 zł i popcorna za 7 zł. Ile pieniędzy jej zostało?




- 10 zł                                       20 zł                                       13 zł                                       15 zł

**10.** Zaznacz prawidłowo wykonane działania.

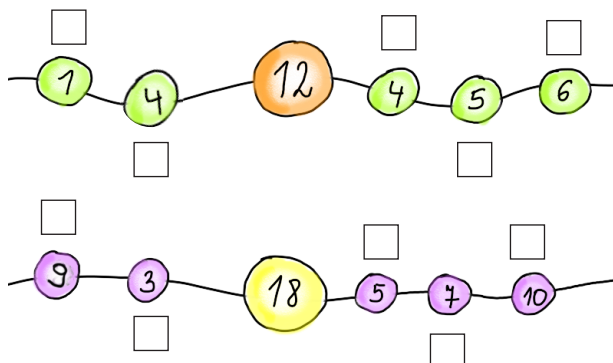
- $5 + 6 = 11$                         $3 + 12 = 13$                         $11 + 3 + 4 = 19$                         $10 + 4 - 2 = 12$

11. Jakie liczby ukryły się pod rysunkami?

$5 + \text{jabłko} = 23$     $\text{słońce} + 11 = 27$     $26 - \text{kwiat} = 7$

- |   |                             |                             |                             |                             |
|---|-----------------------------|-----------------------------|-----------------------------|-----------------------------|
|  | <input type="checkbox"/> 14 | <input type="checkbox"/> 15 | <input type="checkbox"/> 18 | <input type="checkbox"/> 16 |
|  | <input type="checkbox"/> 16 | <input type="checkbox"/> 15 | <input type="checkbox"/> 18 | <input type="checkbox"/> 11 |
|  | <input type="checkbox"/> 13 | <input type="checkbox"/> 14 | <input type="checkbox"/> 19 | <input type="checkbox"/> 16 |

13. Kamila zrobiła bransoletki dla swoich koleżanek z klasy. Zaznacz na każdej bransoletce 3 takie koraliki, aby podane na nich cyfry dały sumę, którą widzisz na największym koraliku.



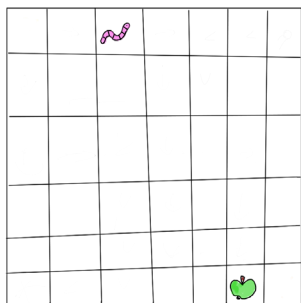
15. W lesie bawiło się 9 małych jeży, ale usłyszały jakiś hałas i kilka z nich schowało się w liściach, zostały tylko trzy jeże. Ile jeży się schowało?

- |                            |                            |
|----------------------------|----------------------------|
| <input type="checkbox"/> 3 | <input type="checkbox"/> 6 |
| <input type="checkbox"/> 5 | <input type="checkbox"/> 4 |

17. Wskaż działanie, w którym wynik jest równy 10.


- |  |                                      |  |  |
|--|--------------------------------------|--|--|
| <input type="checkbox"/> $1 + 4 + 3 + 2$ | <input type="checkbox"/> $3 + 3 + 2$ | <input type="checkbox"/> $2 + 2 + 2 + 4$ | <input type="checkbox"/> $2 + 3 + 4 + 2$ |
|--|--------------------------------------|--|--|

18. Wskaż drogę, która poprowadzi robaczka do jabłka.




- |                          |               |
|--------------------------|---------------|
| <input type="checkbox"/> | ↓ → → ↓ ↓ →   |
| <input type="checkbox"/> | → ↓ ↓ → → ↓ ↓ |
| <input type="checkbox"/> | ↓ ↓ ↓ → → →   |
| <input type="checkbox"/> | → ↓ ↓ → ↓ ↓   |

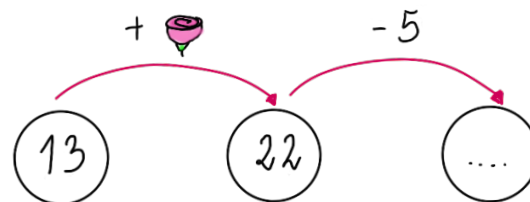
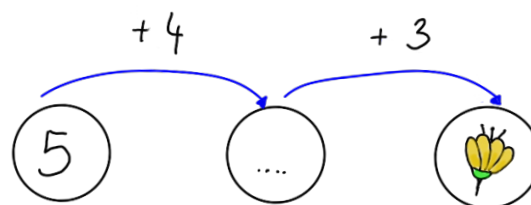
20. Gdzie jest więcej owadów? Zaznacz odpowiedni znak „<”, „>”, „=”.





- |                          |   |
|--------------------------|---|
| <input type="checkbox"/> | < |
| <input type="checkbox"/> | > |
| <input type="checkbox"/> | = |



12. Jaka liczba ukryła się pod rysunkiem?



- |   |                              |                             |                            |                             |
|---|------------------------------|-----------------------------|----------------------------|-----------------------------|
|  | = <input type="checkbox"/> 9 | <input type="checkbox"/> 12 | <input type="checkbox"/> 8 | <input type="checkbox"/> 11 |
|  | = <input type="checkbox"/> 6 | <input type="checkbox"/> 7  | <input type="checkbox"/> 8 | <input type="checkbox"/> 9  |

14. Adam dostał od babci bombonierkę, w której było 18 czekoladek. Adam zjadł 3 czekoladki, siostra Adama zjadła 4, a wieczorem Adam zjadł jeszcze dwie.

Ile czekoladek zjadł Adam?

- |                            |                            |                            |                            |
|----------------------------|----------------------------|----------------------------|----------------------------|
| <input type="checkbox"/> 3 | <input type="checkbox"/> 7 | <input type="checkbox"/> 9 | <input type="checkbox"/> 5 |
|----------------------------|----------------------------|----------------------------|----------------------------|

Ile czekoladek zostało Adamowi na drugi dzień?

- |                            |                             |                             |                             |
|----------------------------|-----------------------------|-----------------------------|-----------------------------|
| <input type="checkbox"/> 9 | <input type="checkbox"/> 13 | <input type="checkbox"/> 11 | <input type="checkbox"/> 10 |
|----------------------------|-----------------------------|-----------------------------|-----------------------------|

16. Lukrecja kupiła 15 cukierków. 4 cukierki były czekoladowe, a pozostałe owocowe. Ile było owocowych cukierków?

- |  |  |
|--|--|
| <input type="checkbox"/> $15 + 4 = 19$ | <input type="checkbox"/> $15 - 4 = 11$ |
| <input type="checkbox"/> $11 + 4 = 15$ | <input type="checkbox"/> $11 - 4 = 7$  |

19. Paula poszła na zakupy i włożyła do koszyczka: 6 czerwonych jabłek, 5 zielonych jabłek, dwie śliwki, 5 marchewek, 8 ziemniaków, jednego banana i 2 pietruszki. Ile owoców ma w koszyczku Paula?

- |                             |                             |
|-----------------------------|-----------------------------|
| <input type="checkbox"/> 15 | <input type="checkbox"/> 14 |
| <input type="checkbox"/> 29 | <input type="checkbox"/> 30 |

21. Ola i Ala to siostry. Ala ma 8 lat i jest starsza od swojej siostry o 3 lata. Ile lat ma Ola?

- |                             |                            |
|-----------------------------|----------------------------|
| <input type="checkbox"/> 3  | <input type="checkbox"/> 4 |
| <input type="checkbox"/> 11 | <input type="checkbox"/> 5 |