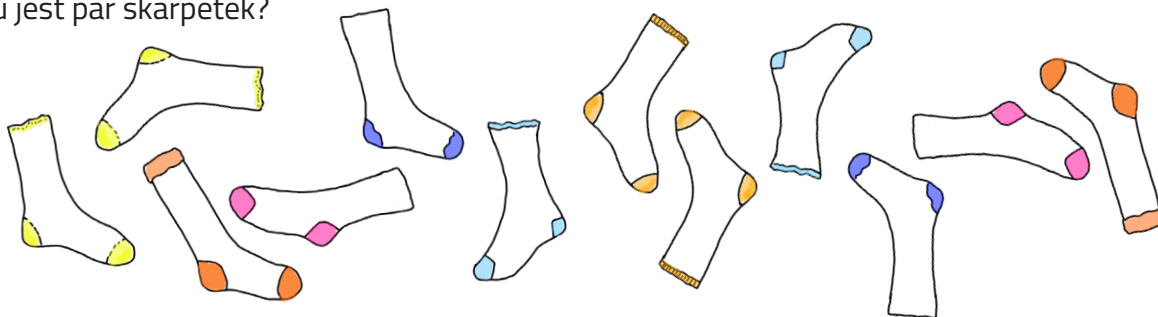


IMIĘ I NAZWISKO UCZNIĄ .....

Przy wybranej odpowiedzi wstaw x w kratce.

1. Ile tu jest par skarpetek?



3

6

5

4

2. Suma liczb 11 i 8 jest równa:


18

16

19

20

3. Wskaż działanie pasujące do poniższego rysunku.



$4 + 5 = 9$

$8 + 6 = 14$

$5 + 5 = 12$

$14 - 8 = 6$

4. Hania ma siedem lat.

Ile lat będzie miała za pięć lat?

14 lat

12 lat

10 lat

11 lat

5. Wskaż liczby mniejsze od 8.

4

9

10

6

6. Jakimi monetami można zapłacić za tabliczkę czekolady, która kosztuje 7 zł?

5 zł, 1 zł, 1 zł

2 zł, 2 zł, 1 zł, 1 zł, 1 zł

2 zł, 5 zł

1 zł, 2 zł, 5 zł

7. Jakie liczby zostały zakryte kredkami?



1, 4, 9, 10

2, 7, 9, 10

10, 9, 7, 4

10, 7, 4, 2

8. Liczba 8 jest o 9 mniejsza od liczby:

15

1

17

16

9. Ile dni mija od wtorku do soboty?

3

4

5

2

10. Wskaż działania, w których wynik jest równy 9.

$10 - 2$

$6 + 2$

$5 + 4$

$10 - 1$

11. Piotruś poszedł na zakupy. Włożył do koszyka trzy jabłka, dwie czekolady i trzy pomarańcze. Ile owoców kupił Piotruś?

- 6                       8                       5                       9

12. Zsumuj ze sobą wszystkie liczby i zaznacz wynik.

9                      7                      4                      5                      6                      3                      2

- 37                       38                       34                       36

13. Ula dostała od babci 30 zł. Kupiła pluszowego misia za 26 zł. Ile pieniędzy jej zostało?

- 4 zł                       5 zł                       0 zł                       3 zł

14. Który wynik jest największy?

- 17 - 6                       25 - 19  
 10 - 1                       20 - 8

15. Kasia zobaczyła na łące krowy.

Razem miały 12 nóg. Ile krów zobaczyła Kasia?

- 6                       3  
 4                       2



16. Pół godziny to ile minut?



- 15 minut                       30 minut                       10 minut                       60 minut

17. Wynik dodawania to:

- różnica  
 suma  
 iloczyn  
 składnik

18. Jakie liczby ukryły się pod obrazkiem? Zaznacz.

$9 +$    $= 15$         $=$   9     6     8     7

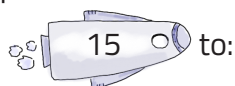
  $+ 8 = 17$         $=$   6     8     7     9

$7 + 9 =$          $=$   16     18     17     19

19. Klaudia przyniosła do szkoły 17 cukierków. 9 z nich rozdała. Ile cukierków zostało Klaudii?

- 9  
 8  
 26  
 10

20. Zaznacz prawidłową odpowiedź.



- dwie dziesiątki i pięć jedności       jedna dziesiątka i pięć jedności  
 pięć dziesiątek i jedna jedność       jedna dziesiątka i sześć jedności

21. Wskaż działanie, którego wynik jest liczbą parzystą.

  $6 + 2$          $3 + 4$          $4 + 5$          $5 + 3$

22. Ile dni to 3 tygodnie i 3 dni?

- 6                       10                       21                       24