


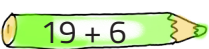


IMIĘ I NAZWISKO UCZNIĄ

Przy wybranej odpowiedzi wstaw x w kratce.

1. O ile więcej nóg ma 5 kotów niż 8 kaczek?

- o 2 o 7 o 6 o 4

2. Zaznacz działania, w których wynik wynosi 24.

-  8 · 3
  19 + 6
  42 - 18
  5 · 5

3. Zaznacz właściwą liczbę.

cztery dziesiątki dwie setki i dziewięć jedności

- 429 924 294 249

cztery jedności pięć setek i sześć dziesiątek

- 456 654 564 546

4. Wskaż listki z nieparzystymi wynikami.

-  65 - 28  5 · 9  17 + 23  4 · 8

5. Sprawdź ceny przedmiotów i zaznacz ile trzeba zapłacić za:



14 zł/kg

11 zł/l



9 zł/kg



Ile zapłacisz za 4 kg bananów?

- 36 zł 30 zł 13 zł 19 zł

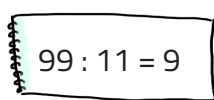
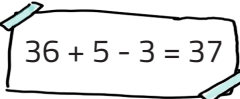
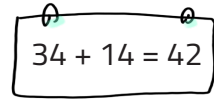
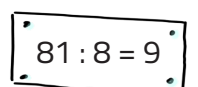
Ile zapłacisz za 5 kg pomidorów?

- 50 zł 19 zł 70 zł 56 zł

Ile zapłacisz za 9 litrów soku?

- 90 zł 89 zł 99 zł 20 zł




6. Zaznacz błędnie wykonane działania.

-  99 : 11 = 9
  36 + 5 - 3 = 37
  34 + 14 = 42
  81 : 8 = 9

7. Na konkurs matematyczny zgłosiło się 62 uczniów. W dzień konkursu 18 uczniów nie przyszło. Ile osób wzięło udział w konkursie?

- 44 80 42 82

8. Jaka liczba kryje się za rybką?

-  - 19 = 56 36 78 75 35
 74 -  = 27 47 49 46 48
 + 29 = 93 63 62 65 64

9. Wskaż liczbę parzystą, większą od 15 i mniejszą od 25.

16

14

18

22

10. Klaudia zobaczyła w lesie dwa jelenie, trzy dziki i cztery dzięcioły. Ile nóg razem miały wszystkie zwierzęta?

28

26

32

20


11. Zsumuj wszystkie liczby w zbiorze i zaznacz wynik.

35

37

40

41



12. Karol i Kasia robią sałatkę owocową. Karol wrzucił do miski cztery gruszki i szesnaście malin. Kasia dorzuciła jeszcze siedem bananów i trzy winogrona. Ile owoców jest razem w misce?

27

30

32

35

13. Od różnicy liczb 42 i 12 odejmij sumę liczb 10 i 7. Ile otrzymasz?

15

19

17

13

14. Jaki znak ukrył się pod słońcem?

$5 \cdot 5$  $7 \cdot 8$ > < =

$72 : 8$  $48 - 13$ > < =

$13 + 4 + 22$  $62 - 23$ > < =

15. Natasza pojechała pociągiem do babci. Podróż rozpoczęła się o 11:20. Pociąg jechał 55 minut. O której godzinie Natasza dojechała do babci?


12:10

12:20

12:25

12:15

16. Oto magiczny kwadrat. Suma liczb w poziomych rzędach i pionowych kolumnach wynosi 25. Jaka liczba ukryła się pod skarpetką?

		7
	7	
11		10

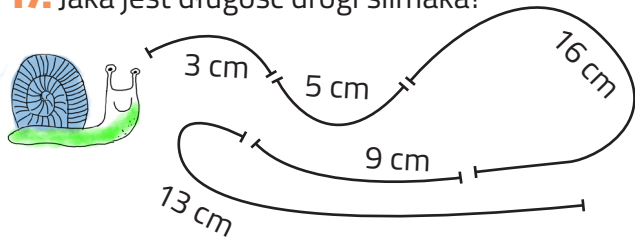
5

4

3

9

17. Jaka jest długość drogi ślimaka?





mniej niż 50 cm

więcej niż 50 cm

46 cm

52 cm

18. Jakie liczby zostały zastonięte kwiatkiem?

28  22 19  10

26, 18, 16

25, 16, 13

25, 23, 17

26, 24, 14

19. Zaznacz poprawnie zapisaną datę Święta Niepodległości w tym roku.

11.11.2024

11.XI.2024

11 11 2024

11.IX.2024

20. Paweł pomaga dziadkowi w sadzie zbierać jabłka. Razem zebrali 72 jabłka i rozdzielili je po równo do 8 koszyków. Ile jabłek było w każdym koszyku?


8

7

9

6

21. Jakie liczby mogły ukryć się pod latawcem?

$7534 < 75$  8

4

2

8

1

$4643 >$  346

3

5

7

2