




IMIĘ I NAZWISKO UCZNIĄ


Przy wybranej odpowiedzi wstaw x w kratce.

1. Wybierz kredki z nieparzystymi wynikami.

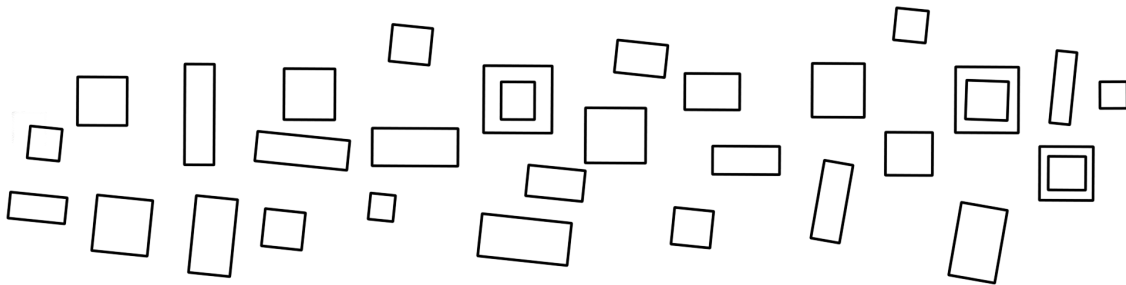
$44 + 9$ 

$61 - 3$ 

$22 + 14 - 7$ 

$53 - 9$ 

2. Ile kwadratów kryje się na obrazku?



20

18

19

16

3. Jakie liczby zostały zakryte bombkami?



28, 25, 19, 10

26, 24, 20, 10

24, 23, 21, 12

18, 21, 22, 23

4. Martyna kupiła 43 pierniki. Mama kupiła jeszcze 20 pierników. 16 pierników było w kształcie serca, a pozostałe w kształcie gwiazdki. Ile było pierników w kształcie gwiazdki?

27

47

59

36

5. Które liczby są uporządkowane rosnąco?

17, 19, 22, 25, 26

9, 18, 21, 29, 13

23, 41, 55, 47, 68

35, 36, 37, 36, 39

6. Liczba 38 jest o 16 większa od liczby:

24

22

54

52

7. Zaznacz prawidłowo wykonane działania.

$72 : 8 = 8$

$48 - 14 - 6 = 28$

$51 - 26 + 3 = 27$

$11 + 13 - 8 = 16$

8. Michał zobaczył na łące kilka kóz i kilka bocianów. Policzył ich nogi, było ich łącznie 24. Ile kóz i bocianów zobaczył Michał?

4 kozy i 5 bocianów

4 kozy i 3 bociany

5 kóz i 2 bociany

2 kozy i 6 bocianów

9. Jakie liczby ukryły się pod rysunkami? Zaznacz.

 + 39 = 49 36 -  + 8 = 33 29 +  = 65

 = 10 12 9 15

 = 9 11 8 7

 = 31 33 28 36


10. Na przedstawieniu szkolnym było 48 dzieci. 16 z nich to chłopcy. Ile było dziewczynek na przedstawieniu?


34 32 28 26

11. Konstancja robiła ozdoby na choinkę. W poniedziałek zrobiła 29 ozdób, we wtorek o 13 mniej. W środę zrobiła 18. Ile ozdób zrobiła Konstancja we wtorek?

16 32 18 42

12. Oblicz i zaznacz jaki znak ukrył się pod bałwankiem „>”, „<”, „=”

37 - 6  9 + 16 < > =

19 + 15  49 - 12 < > =

46 - 17  12 + 17 < > =

13. Zaznacz działania, których wynik jest równy 63.

17 + 17 + 22 41 - 9 + 31 32 + 21 - 6 39 - 6 + 30

14. Liczby w szeregu zapisane są według pewnej reguły. Odkryj ją i zaznacz brakujące liczby.

16, 20, 24, ...

28, 32, 36 25, 27, 29 27, 29, 32 28, 32, 34

15. Wskaż wyniki mnożenia liczb przez 7.

49 21 18 40

16. Karol ma w piórniku 2 długopisy, 8 kredek i 3 ołówki. Mama dołożyła mu jeszcze 16 mazaków. Ile razem przyborów Karol ma w piórniku?

23 29 17 28

17. Oblicz i zaznacz.

$48 - 16 + 8 = \dots$

40 41 38 24

18. Konstancja pojechała do babci na 2 tygodnie i 5 dni. Ile dni Konstancja była u babci?

14 dni 19 dni 12 dni 21 dni

19. Sara ma 56 śliwek w czekoladzie. Rozdała po równo swoim 7 koleżankom. Po ile śliwek dostała każda z koleżanek?

7 8 9 6

20. Adrian zbiera pieniądze do skarbonki na sterowany samochód. Mama wrzuciła do skarbonki 22 zł, tata 33 zł a babcia dołożyła jeszcze 10 zł. Ile pieniędzy ma teraz w skarbonce Adrian?

55 zł 65 zł 45 zł 75 zł

21. Jest godzina 14:30. Którą godzinę pokaże zegar za 90 minut?

15:30 15:45 16:00 16:15